

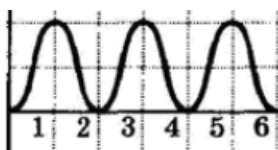
1. Вкажіть назву хвилі, за характером коливань частинок середовища. (16)



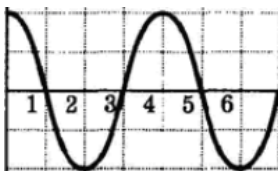
2. Вкажіть назву хвилі, за характером коливань частинок середовища. (16)



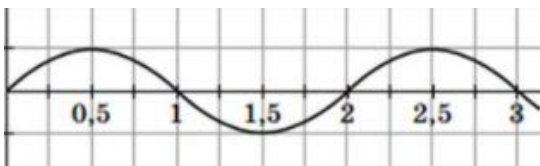
3. Визначте довжину хвилі. (16)



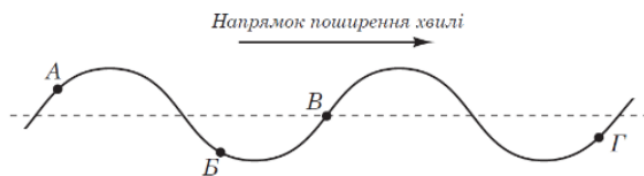
4. Визначте довжину хвилі. (16)



5. Визначте довжину хвилі. (26)



6. Визначте напрямки руху точок, позначених буквами. (26)



7. Визначте напрямки руху точок, позначених буквами. (36)

